


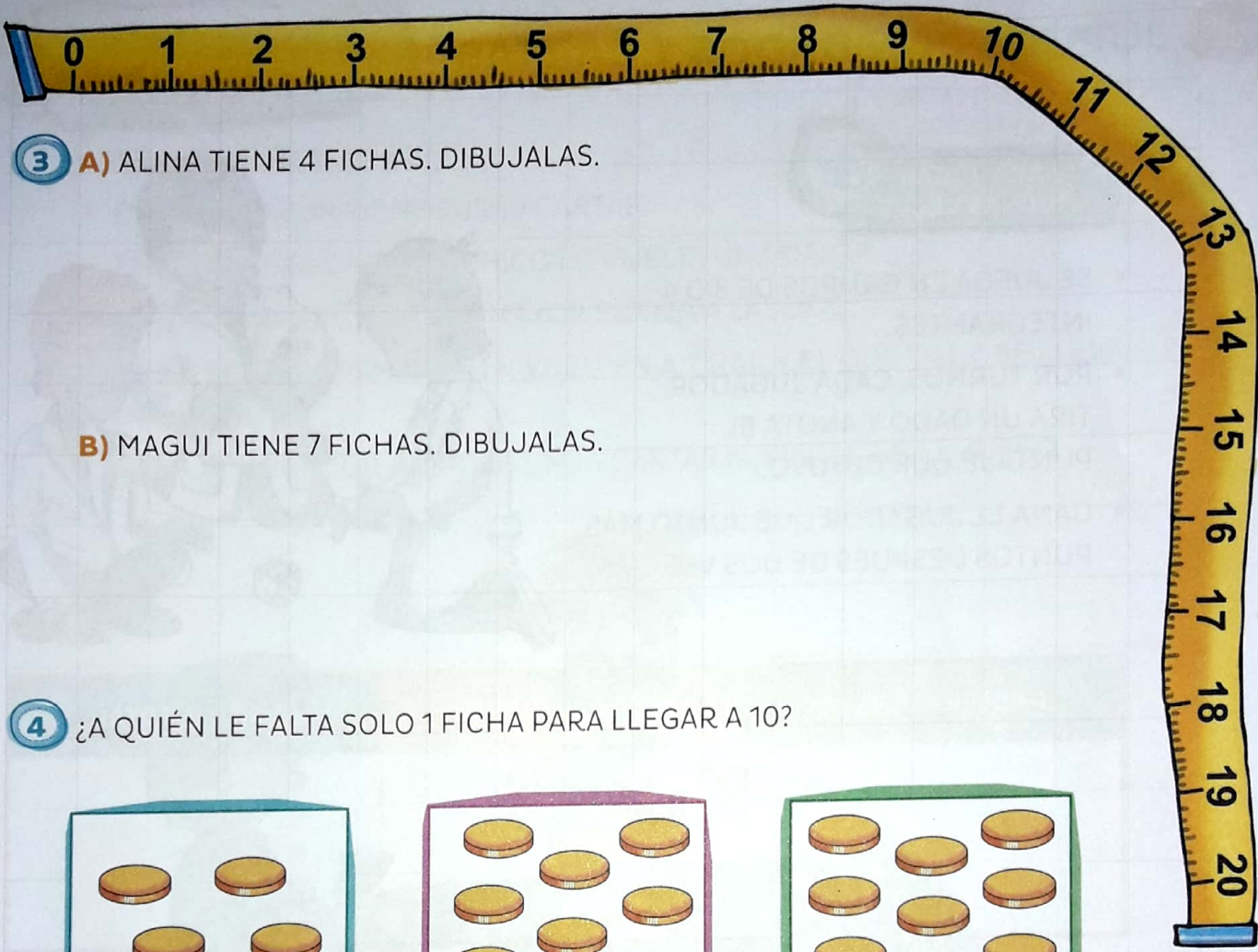
CONTAR PARA JUGAR

1 EN ESTE JUEGO GANA EL QUE JUNTA 10 FICHAS. ¿QUIÉN VA GANANDO EN CADA PAREJA?



2 ¿CUÁLES SON LAS FICHAS DE ANTONIA?







3 A) ALINA TIENE 4 FICHAS. DIBUJALAS.

B) MAGUI TIENE 7 FICHAS. DIBUJALAS.


4 ¿A QUIÉN LE FALTA SOLO 1 FICHA PARA LLEGAR A 10?



RESOLVER PROBLEMAS MÁS DIFÍCILES ENTRE TODOS

EN ESTE JUEGO GANA EL QUE JUNTA 20 FICHAS.

- ¿QUIÉN TIENE RAZÓN?



JUEGOS CON DADOS Y CARTAS

PUEDEN USAR LOS DADOS PARA ARMAR DE LAS PÁGINAS RECORTABLES.

1
En grupos

PARA JUGAR MUCHAS VECES

- SE JUEGA EN GRUPOS DE 3 O 4 INTEGRANTES.
- POR TURNOS, CADA JUGADOR TIRA UN DADO Y ANOTA EL PUNTAJE QUE OBTUVO.
- GANA EL JUGADOR QUE JUNTÓ MÁS PUNTOS DESPUÉS DE DOS VUELTAS.



PRIMERA VUELTA	SEGUNDA VUELTA	PUNTAJE TOTAL

2
En grupos

PARA JUGAR MUCHAS VECES

- SE JUEGA IGUAL QUE EN EL JUEGO ANTERIOR, PERO ESTA VEZ CADA JUGADOR TIRA DOS DADOS JUNTOS.



PRIMERA VUELTA	SEGUNDA VUELTA	PUNTAJE TOTAL



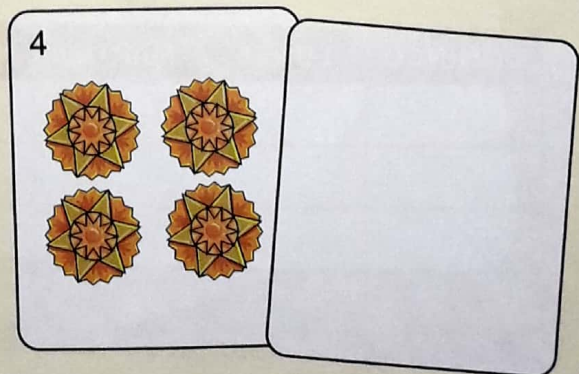
PUEDEN USAR LAS
CARTAS DE LAS PÁGINAS
RECORTABLES.

- SE JUEGA EN PAREJAS.
- CADA JUGADOR TIENE SUS 10 CARTAS.
- EN CADA JUGADA, CADA CHICO DA VUELTA UNA CARTA.
- EL QUE TIENE EL NÚMERO MAYOR SE LLEVA LAS DOS.
- SI LES SALE LA MISMA CARTA, VUELVEN A TIRAR Y EL QUE GANA SE LLEVA LAS 4 CARTAS.
- GANA EL JUGADOR QUE TIENE MÁS CARTAS AL FINALIZAR EL JUEGO.




PENSAR MANERAS DE RESOLVER ENTRE TODOS

- ¿CUÁL ES LA CARTA CON EL NÚMERO MAYOR?
- ANA SACÓ ESTA CARTA. ¿QUÉ CARTAS PODRÍAN GANARLE?



SEGUIR EL ORDEN DE LOS NÚMEROS

¿QUÉ IMAGEN SE FORMA AL UNIR LOS PUNTOS SIGUIENDO EL ORDEN DE LOS NÚMEROS?





SABER CUÁNTOS HAY

1 ¿CUÁNTOS PASAJEROS VIAJAN EN ESTE MICRO?



2 ¿EN CUÁL DE LOS DOS MICROS HAY MÁS PASAJEROS?



3 ¿CUÁNTOS PASAJEROS TIENEN QUE SUBIR PARA COMPLETAR TODOS LOS ASIENTOS?







4 MARCÁ LOS PASAJEROS QUE PUEDEN SUBIR AL MICRO.



RESOLVER PROBLEMAS MÁS DIFÍCILES ENTRE TODOS

EN UNA COMBI, A LA IDA VIAJARON 4 PASAJEROS Y A LA VUELTA VIAJARON 5.

- ¿CUÁL DE ESTAS COMBIS ES LA DE IDA?
- ¿Y CUÁL ES LA DE VUELTA?



NÚMEROS Y CARTAS

PUEDEN USAR LAS
CARTAS DE LAS PÁGINAS
RECORTABLES.


1
De a dos

PARA JUGAR
MUCHAS VECES

- SE MEZCLAN LAS CARTAS DE LOS DOS INTEGRANTES.
- SE REPARTEN TODAS LAS CARTAS ENTRE LOS DOS.
- POR TURNOS, CADA JUGADOR DA VUELTA UNA CARTA Y TACHA EL NÚMERO EN SU TABLERO.
- SI SALE UN NÚMERO QUE YA ESTÁ TACHADO, SIGUE EL OTRO JUGADOR.
- GANA EL QUE COMPLETA PRIMERO SU TABLERO.

1 2 3 4 5 6 7 8 9 10




2 NINA DIO VUELTA ESTAS CARTAS, PERO SE OLVIDÓ DE COMPLETAR EL TABLERO. TACHÁ LOS NÚMEROS QUE SACÓ.




1 2 3 4 5 6 7 8 9 10

3 BENJAMÍN TACHÓ ESTOS NÚMEROS EN SU TABLERO. DIBUJÁ LAS CARTAS QUE DIO VUELTA.

1	2	3	4	5	6	7	8	9	10
---	--------------	---	--------------	---	--------------	---	---	---	----




4 CECILIA DIO VUELTA ESTA CARTA. ESCRIBÍ EN EL TABLERO DE BENJAMÍN EL NÚMERO QUE TIENE QUE TACHAR.



RESOLVER PROBLEMAS MÁS DIFÍCILES ENTRE TODOS

- TOMÁS MARCÓ EN ESTE TABLERO LOS NÚMEROS DE SUS TRES CARTAS. ¿CUÁL DE LOS DOS NENES ES TOMÁS?



1	2	3	4	5	6	7	8	9	10
---	---	--------------	---	--------------	---	---	---	--------------	----

RECORRER UN TABLERO

1
De a dos

PARA JUGAR
MUCHAS VECES

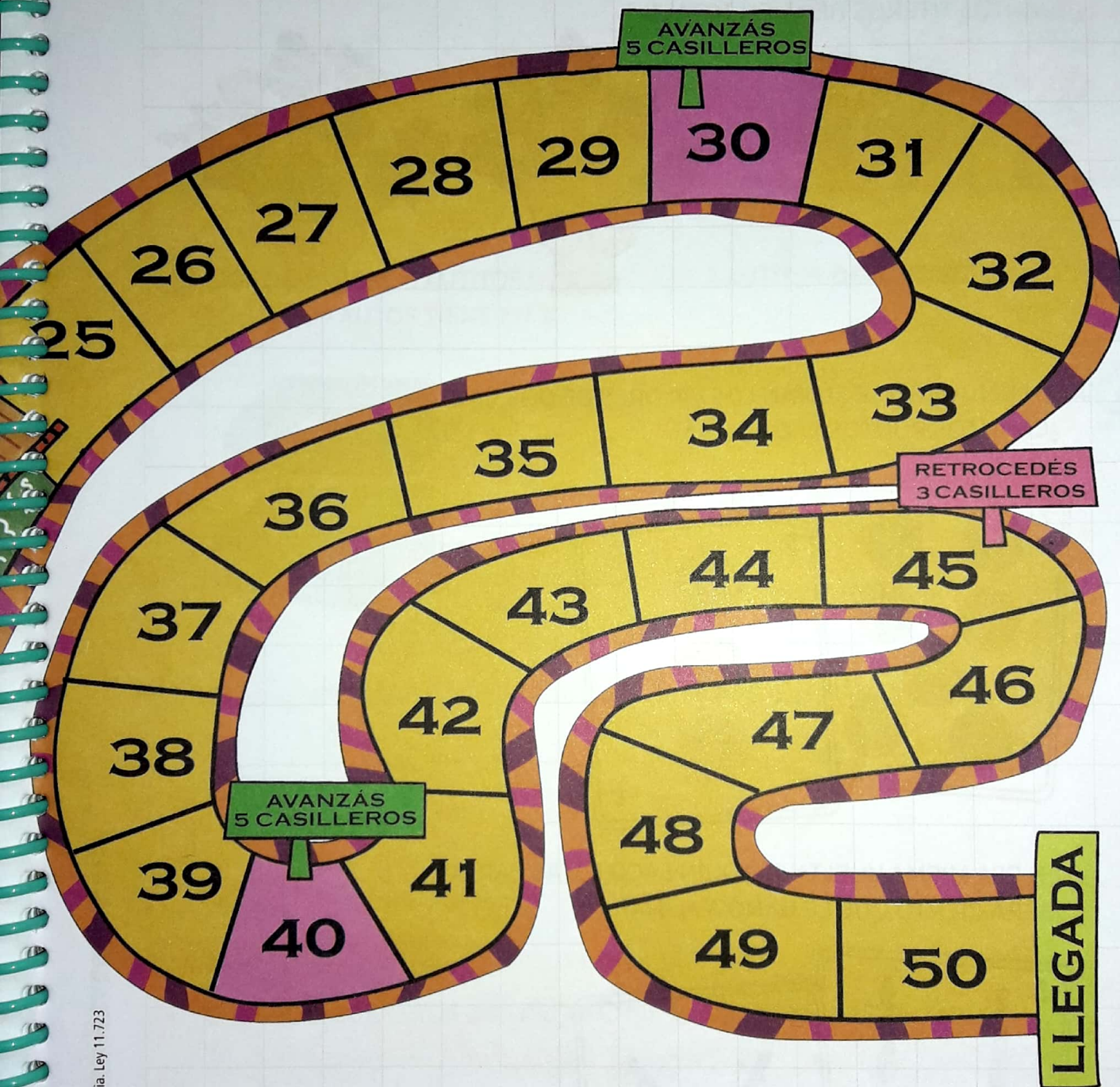


PUEDEN USAR
CUALQUIER DADO DE
LOS RECORTABLES.



- NECESITAN UN DADO Y DOS FICHAS.
- EMPIEZA EL QUE SACA MÁS PUNTOS AL TIRAR EL DADO.
- POR TURNOS CADA CHICO TIRA EL DADO Y AVANZA CON SUS FICHAS TANTOS CASILLEROS COMO INDICA EL DADO. SI LA FICHA CAE EN UN CASILLERO CON CARTEL, AVANZA O RETROCEDE SEGÚN SE INDICA.
- GANA EL PRIMERO QUE LLEGA CON SU FICHA AL CASILLERO DE "LLEGADA".





2. EMA ESTABA EN EL CASILLERO 4 Y SACÓ UN 5. ¿ES CIERTO QUE VA A CAER EN EL 8?
3. LULI ESTÁ EN EL 26. ¿QUÉ TIENE QUE SACAR PARA LLEGAR AL CASILLERO 29 EN UNA SOLA JUGADA?

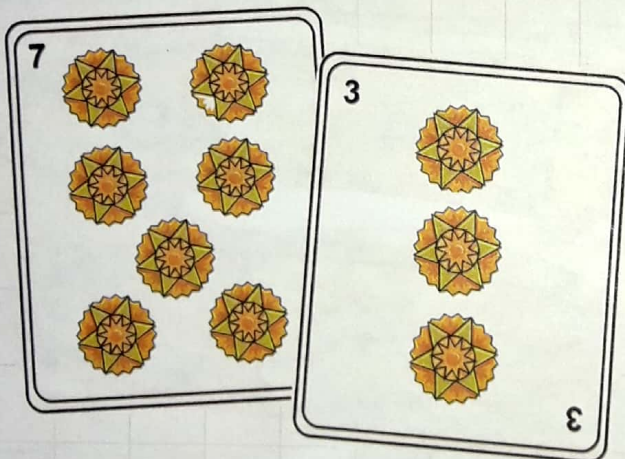
¿CUÁNTOS HAY Y CUÁNTOS QUEDAN?

- 1 VERÓNICA TIENE 5 TÍTERES DE ANIMALES Y 6 TÍTERES DE PERSONAS.
¿CUÁNTOS TÍTERES TIENE EN TOTAL?

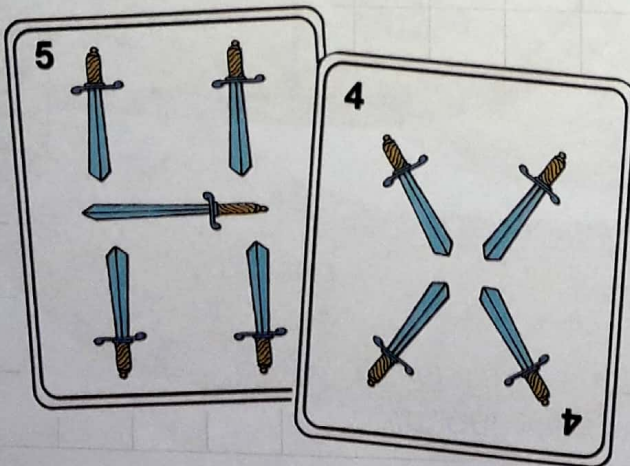


- 2 A) EN UN JUEGO SE SUMAN LOS VALORES DE DOS CARTAS.
¿CUÁNTOS PUNTOS SACÓ ALINA?


De a dos



- B) EN ESA MISMA VUELTA JOAQUÍN SACÓ ESTAS CARTAS.
¿SERÁ CIERTO QUE LE GANÓ A ALINA?



- 3 NINA TENÍA 6 CONEJOS Y LE REGALARON OTROS 3 MÁS.
¿CUÁNTOS CONEJOS TIENE AHORA?



- 4 JOAQUÍN TIENE 5 AUTITOS DE CARRERA Y 4 AUTITOS DEPORTIVOS.
¿CUÁNTOS AUTOS TIENE EN TOTAL?



- 5 NACHO PREPARÓ 4 HAMBURGUESAS. SI COMIÓ 2, ¿CUÁNTAS QUEDARON?

PENSAR ENTRE TODOS

- ¿ES CIERTO QUE ESTOS DOS PROBLEMAS DAN EL MISMO RESULTADO?

ABRIL TENÍA 6 CAMELOS Y SU HERMANA LE REGALÓ 2.
¿CUÁNTOS CAMELOS TIENE AHORA?

DANA TENÍA 6 CAMELOS Y LE REGALÓ 2 A SU HERMANA.
¿CUÁNTOS CAMELOS TIENE AHORA?